

日本経済論 B 中間試験

2005 年 12 月 5 日実施

問題 1 (2 点 × 32 = 64 点)

- (1) モジュール型の代表的製品は何か
パソコン 自動車 温泉饅頭 だいこん
- (2) 国際的な貿易ルールを決めている国際機関は何か
FTA WHO WTO WIPO
- (3) 人間の基本的能力の到達度を示す指標で、男女間の不平等や所得、管理職の数の違いまでも含めた計測される指標はなんと呼ぶか。
HDI GEM GDI NDI
- (4) 団塊の世代が生まれたのは何年ころか
1947 年 1957 年 1967 年 1977 年
- (5) 日本の合計特殊出生率はどれくらいか
4.29 3.29 2.29 1.29
- (6) 日本の家計貯蓄率は長期的にどうなっているか。
下がっている 上がっている ほぼ横ばい 不規則に動く
- (7) 世界に占める日本の GDP のシェアはどのくらいか。
42% 22% 32% 12%
- (8) 世界の人口に占める日本のシェアはどのくらいか
22% 12% 2% 32%
- (9) 日本の女子労働力率を年齢別に書くとどのような形になるか。
M字型 W字型 V字型 N字型
- (10) ユニクロが注目する 10 代、20 代の女性向け衣料を扱う企業はどこか
ポニーズ サニーズ デニーズ ハニーズ
- (11) いすゞ自動車の主力商品はどれか
軽自動車 耕うん機 バス オートバイ
- (12) 自民党の財政改革研究所が示した将来の消費税率はつぎのうちどれか
1 - 5% 10 - 15% 20 - 25% 30 - 35%
- (13) 業務停止命令を受けた明治安田生命保険では、何件の悪質な保険金不払いがあったか。
2 件 20 件 200 件 2000 件
- (14) コメの関税は現在何%か
7.78% 77.8% 778% 7780%

- (15) TBSの株を大量に取得しているのはどこか。
 ライブドア 楽天 フジテレビ ニッポン放送
- (16) 商品者サービスの名やマークを保護する権利を何と呼ぶか
 商標権 意匠権 著作権 特許権
- (17) 中国主席の名前はどれか
 李鵬 金大中 胡錦濤 温家宝
- (18) 死者まで出た暴動が起こったのはどこの国か
 ドイツ フランス イギリス イタリア
- (19) ドイツの新首相の名前はどれか
 メルケル シュレーダー シラク ブレア
- (20) 2005年10月に大地震があった国はどこか
 ネパール バングラデシュ カンボジア パキスタン
- (21) 狂牛病はアルファベット3文字で何と呼ばれるか。
 RSE BSE ESE TSE
- (22) 新三種の神器に含まれないものはどれか
 ビデオカメラ DVDレコーダー 薄型テレビ デジタルカメラ
- (23) 「創造的破壊」とは誰の言葉か
 マルクス リカード ケインズ シュンペーター
- (24) 海外で次の行為を行った場合、直接投資に含まれるのはどれか
 特許権の取得 国債の取得 工場の建設 株式の短期取得

次ページの閣僚名簿のAからHにあてはまるのは誰か、次のうちから一人選んで解答欄

(25)から(32)に記号で答えよ。

小泉 純一郎 小池 百合子 竹中 平蔵 安倍 晋三 麻生 太郎
 与謝野 馨 谷垣 禎一 猪口 邦子

- (25) A
 (26) B
 (27) C
 (28) D
 (29) E
 (30) F
 (31) G
 (32) H

小泉内閣閣僚名簿

職名	氏名	備考	
内閣総理大臣	A	衆院	神奈川11区 当選12回 昭和17年1月8日生
総務大臣 郵政民営化担当	B	参院	比例 当選1回 昭和26年3月3日生
法務大臣	杉浦 正健	衆院	愛知12区 当選6回 昭和9年7月26日生
外務大臣	C	衆院	福岡8区 当選9回 昭和15年9月20日生
財務大臣	D	衆院	京都5区 当選9回 昭和20年3月7日生
文部科学大臣 国民スポーツ担当	小坂 憲次	衆院	長野1区 当選6回 昭和21年3月12日生
厚生労働大臣	川崎 二郎	衆院	三重1区 当選8回 昭和22年11月15日生
農林水産大臣	中川 昭一	衆院	北海道11区 当選8回 昭和28年7月19日生
経済産業大臣 国際博覧会担当	二階 俊博	衆院	和歌山3区 当選8回 昭和14年2月17日生
国土交通大臣 首都機能移転担当 観光立国担当	北側 一雄	衆院	大阪16区 当選6回 昭和28年3月2日生
環境大臣 内閣府特命担当大臣 (沖縄及び北方対策) 地球環境問題担当	E	衆院	東京10区 当選5回 参院 1回 昭和27年7月15日生
内閣官房長官	F	衆院	山口4区 当選5回 昭和29年9月21日生
国家公安委員会委員長 内閣府特命担当大臣 (防災) 有事法制担当	沓掛 哲男	参院	石川 当選4回 昭和4年9月12日生
防衛庁長官	額賀 福志郎	衆院	茨城2区 当選8回 昭和19年1月11日生
内閣府特命担当大臣 (金融 経済財政政策)	G	衆院	東京1区 当選9回 昭和13年8月22日生
内閣府特命担当大臣 (規制改革) 行政改革担当 構造改革特区・地域再生担当	中馬 弘毅	衆院	大阪1区 当選9回 昭和11年10月8日生
内閣府特命担当大臣 (科学技術政策 食品安全) 情報通信技術(IT)担当	松田 岩夫	参院	岐阜 当選2回 衆院3回 昭和12年5月19日生
内閣府特命担当大臣 (少子化・男女共同参画)	H	衆院	比例(東京) 当選1回 昭和27年5月3日生

問題 2 (10 点)

「合計特殊出生率」が低下している原因について説明せよ。

問題 3 (20 点)

今年 20 歳の学生は 2050 年には 65 歳になっている。2050 年に日本はどのような社会になっているだろうか。次ページ以降の人口ピラミッド (図 5) や表 1 を参考にして、あなたの考えを述べなさい。

問題 4 (6 点)

授業の感想、改善点などを書いてください。何も書き込みがないもの、「特にありません」などは 0 点。

(時間が余った人のためのクイズ)

この言葉の語源は、もっぱら中国とされています。昔、ある西洋人が来日した際、中国で目にした漢字二文字を当時の九州の農民にみせたところ、非常に悩んで無理やりに音読みしたといいます。というのも、当時の人々の大半は、この漢字二文字を逆さまにしたものは日常的に使っていたけれども、見せられた順序では見慣れないものだったからです。さて、この音読みがきっかけとなって、西洋に広がった言葉とは？

(正解しても得点にはなりません)

図5 人口ピラミッドの変化：中位推計

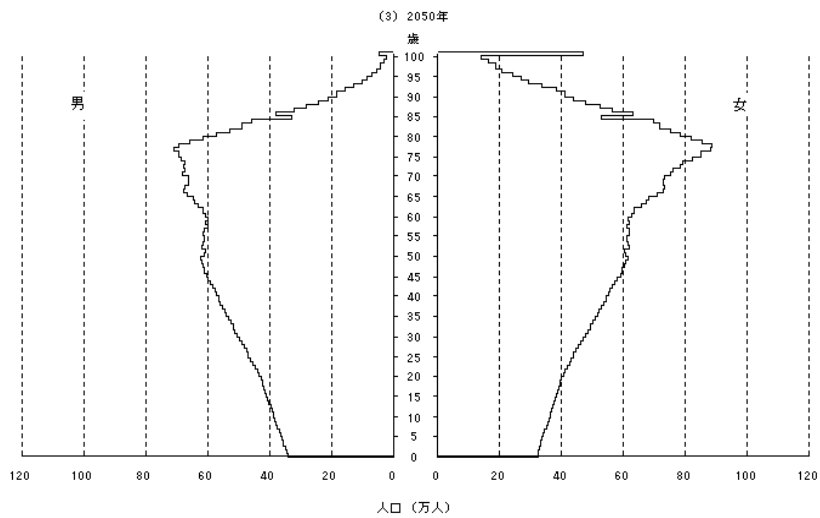
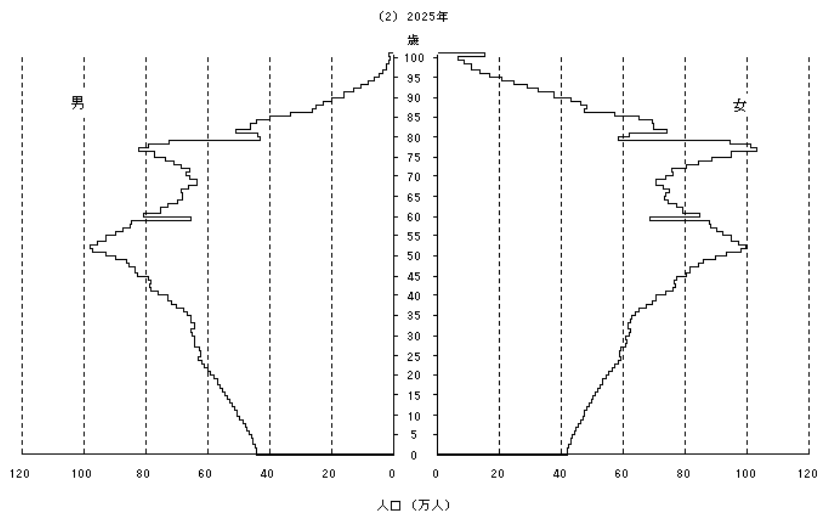
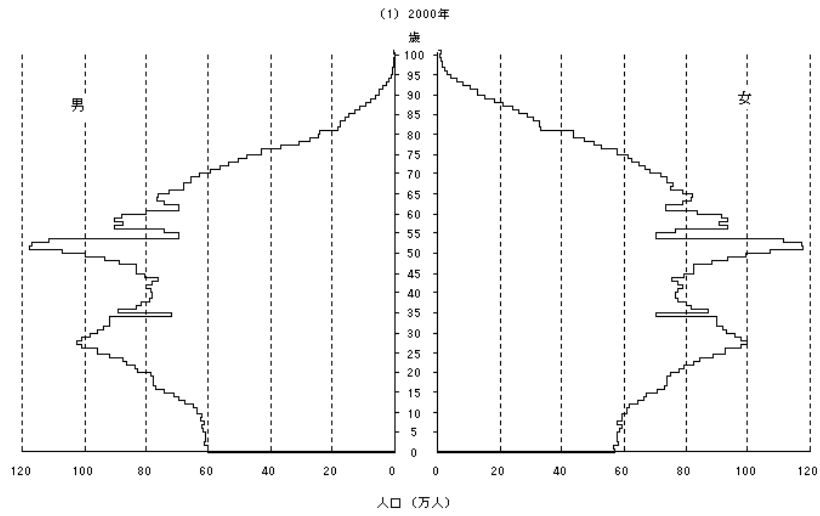


表1 総人口、年齢3区分(0～14歳、15～64歳、65歳以上)別人口および年齢構造係数：中位推計

年次	あなた(学生)の まかなな年齢	人口(1,000人)				割合(%)		
		総数	0～14歳	15～64歳	65歳以上	0～14歳	15～64歳	65歳以上
平成 12 (2000)		126,926	18,505	86,380	22,041	14.6	68.1	17.4
17 (2005)	20歳	127,708	17,727	84,590	25,392	13.9	66.2	19.9
22 (2010)	25歳	127,473	17,074	81,665	28,735	13.4	64.1	22.5
32 (2020)	35歳	124,107	15,095	74,453	34,559	12.2	60.0	27.8
42 (2030)	45歳	117,580	13,233	69,576	34,770	11.3	59.2	29.6
52 (2040)	55歳	109,338	12,017	60,990	36,332	11.0	55.8	33.2
62 (2050)	65歳	100,593	10,842	53,889	35,863	10.8	53.6	35.7
72 (2060)	75歳	91,593	9,822	48,993	32,778	10.7	53.5	35.8
82 (2070)	85歳	82,506	9,316	44,147	29,043	11.3	53.5	35.2
92 (2080)	95歳	74,931	8,897	40,164	25,870	11.9	53.6	34.5
102 (2090)	105歳	68,966	8,540	37,221	23,205	12.4	54.0	33.6
112 (2100)	115歳	64,137	8,415	34,851	20,871	13.1	54.3	32.5

(出所) 国立社会保障人口問題研究所ホームページ。

各年10月1日現在人口。