

アジアの経済試験問題

2003 年 7 月 15 日

(100 点満点、評価では 50 点満点に換算)

問1 4 ページの地図を見て、その国・地域の首都と地図上での場所 (アルファベットで答える) を教えてください。(全問正解で 10 点)

問2 アジアの新興工業国群 (N I E S) とは、どこの国・地域を指すでしょうか。4 つ挙げてください。(全部正解で 5 点)

問3 東南アジア諸国連合 (A S E A N) は 10 カ国ありますが、ラオス、カンボジア、ベトナム、ミャンマー、ブルネイ以外の国はどこでしょう。5 つ挙げてください。(全部正解で 5 点)

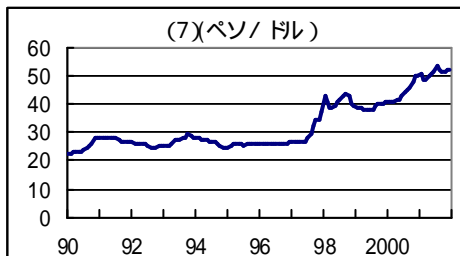
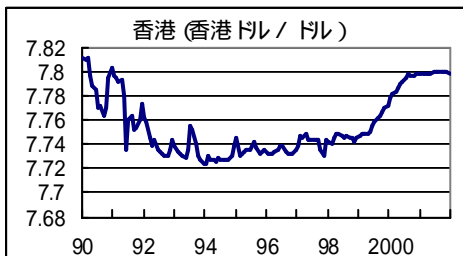
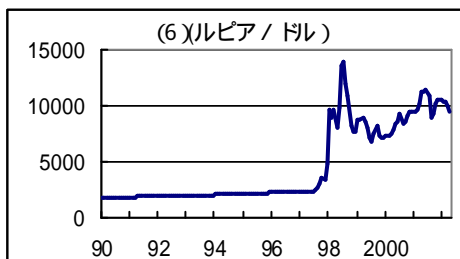
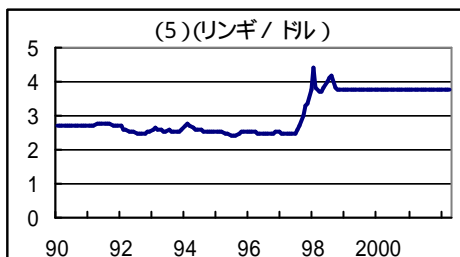
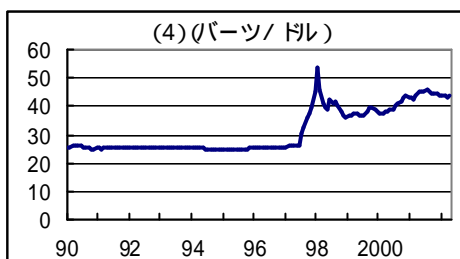
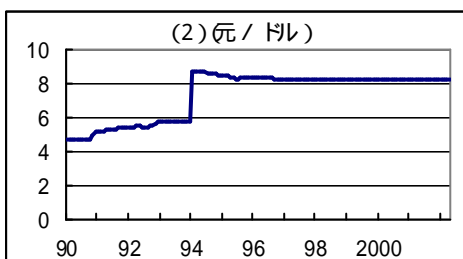
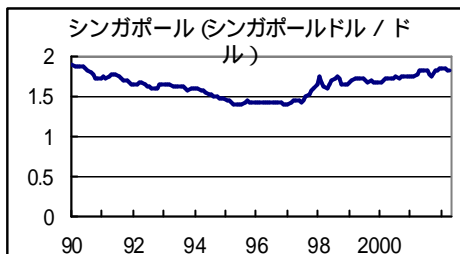
問4 次の経済指標が当てはまる国・地域名を書いてください。(各 3 点、計 27 点)

	人口 (100 万人)	経済規模 (米国 = 100)	1人当たり所得 (米国 = 100)	経済成長率 (1980 ~ 95 年平均、 %)	国内貯蓄率 (%)	輸出 / G D P 比 (%)	農業従事人口 (1990 年、 %)	乳児死亡率 (1000 人当たり)
アメリカ	263	100.0	100.0	2.9	15	11	3	8
日本	125	73.5	154.4	3.0	31	9	7	4
A	45	6.6	38.4	8.7	36	33	18	10
B	20	1.2	16.1	6.4	37	96	27	12
C	21	3.8	46.9	7.5	25	49	11	5
D	193	2.8	3.9	6.6	36	25	55	51
E	3	1.2	105.6	7.2	51	177	0	4
F	1200	10.0	2.2	11.1	42	21	72	34
G	6	2.1	87.7	6.5	33	147	1	5
H	69	1.1	4.1	1.4	15	36	46	39
I	58	2.4	10.9	7.9	36	42	64	35
ベトナム	74	0.3	1.0	6.1	16	36	71	41

問5

次の(1)～(7)に当たる国・地域名を教えてください。(各2点計14点)

各国の対ドル為替レートの推移



問6

(各3点計12点)

(1) 次の企業のうち、韓国の企業でないのはどれでしょう。

- 1 現代(ヒュンダイ) 2 ハイアール 3 三星(サムスン) 4 LG

(2) 台湾にある、先端技術を集積した場所の名前は何でしょう。

- 1 新竹工業園区 2 マルチメディア・スーパー・コリドー
3 シリコンバレー 4 つくば学園都市

(3) 右の写真は誰でしょう

- 1 インドネシア メガワティ大統領
2 ベトナム チャン・ドゥック・ルオン国家主席
3 ミャンマー アウン・サン・スー・チー女史
4 フィリピン アロヨ大統領



(4) 次の記述のうち正しいものを選んでください。

- 1 中国と日本は経済的な交流はあるが、正式な国交は結んでいない。
2 香港は、1997年英国から中国へ返還された。
3 中華人民共和国は、社会主義国から資本主義国へと完全に政策転換した。
4 中国は世界貿易機関(WTO)にまだ加盟していない。

問7

解答用紙に書いてある各質問に答えてください。

(計21点)

問8

(計6点)

授業で使ったさまざまな映画、TVプログラムのうち最も印象に残っているものを挙げ、その理由を書いてください。